



Teste de avaliação



Geografia 9º ano

Conteúdos:
-Pesca
-Indústria





Pesca



A frase seguinte é falsa: A pesca é a atividade do setor primário que consiste na produção de espécies aquáticas, em meio natural. Identifica a palavra incorreta.



Observa a imagem seguinte e seleciona a descrição que melhor lhe corresponde, relativamente à importância da pesca.



A A pesca faz desenvolver atividades a montante, como o comércio.

B A pesca faz desenvolver atividades a jusante, como a congelação e comercialização.

C A pesca cria empregos diretos e serve como matéria- prima.



Observa com atenção a figura seguinte e seleciona a a legenda correta.



A

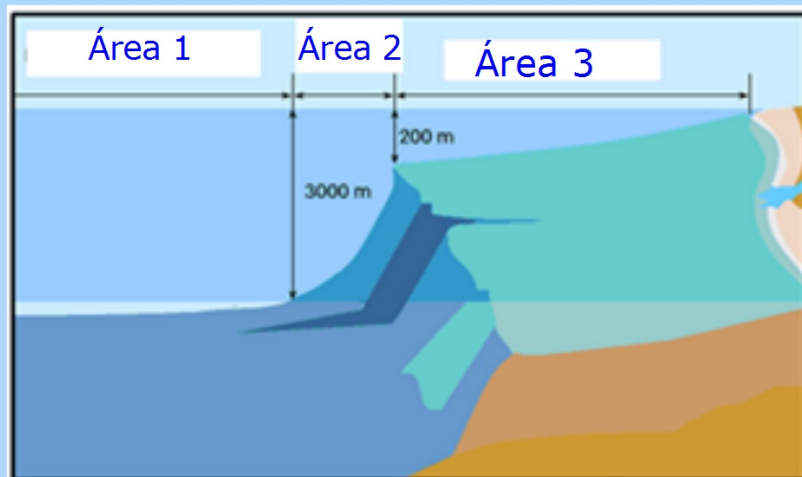
Área 1- Plataforma continental
Área 2- Talude
Área 3- Planície abissal

B

Área 1- Talude
Área 2- Plataforma continental
Área 3- Fossas abissais

C

Área 1- Planície abissal
Área 2- Talude
Área 3- Plataforma continental



São vários os fatores que explicam a riqueza piscícolas nas plataforma continentais. Da lista de fatores seguintes seleciona o que não está correto.



- A** pouca profundidade que facilita a penetração da luz, o que favorece a fotossíntese.
- B** riqueza em nutrientes trazidos pelas águas fluviais.
- C** agitação das águas que influencia o grau de oxigenação
- D** elevada salinidade que favorece o desenvolvimento do panctón
- E** riqueza em planctón, quer fitoplanctón quer zooplanctón.

Seleciona a tabela de conceitos correta.



A

Plataforma continental	Zonas mais ricas em espécies piscícolas
Upwelling	Ascensão à superfície de águas profundas e frias
Fundos abissais	Extensão das placas continentais
Nortada	Vento responsável pelo upwelling
Encontro de correntes frias e quentes	Zonas mais profundas do mar
Panctón	Base da cadeia alimentar marinha

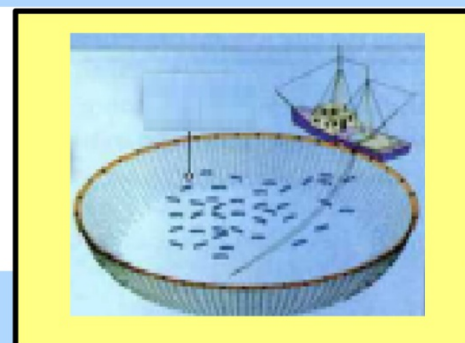
B

Plataforma continental	Extensão das placas continentais
Upwelling	Ascensão à superfície de águas profundas e frias
Fundos abissais	Zonas mais profundas do mar
Nortada	Vento responsável pelo upwelling
Encontro de correntes frias e quentes	Zonas mais ricas em espécies piscícolas
Panctón	Base da cadeia alimentar marinha

C

Plataforma continental	Extensão das placas continentais
Upwelling	Ascensão à superfície de águas profundas e quentes
Fundos abissais	Zonas menos profundas do mar
Nortada	Vento responsável pelo upwelling
Encontro de correntes frias e quentes	Zonas mais ricas em espécies piscícolas
Panctón	Base da cadeia alimentar marinha

Identifica o tipo de pesca representado na figura.



A

Arrasto

D

Anzois

B

Deriva

Cerco

C




Observa o pequeno filme e responde às questões.

Identifica o tipo de pesca.

A Tradicional

B Moderna

C Industrial



Após observação do filme lê com atenção a frase seguinte e assinala se é verdadeira ou falsa.

A pesca tradicional caracteriza-se por utilizar embarcações pequenas e mal apetrechadas e por isso é costeira e realizada por curtos períodos .



A



B



**Assinala aquele que não é um destino do
pescado da pesca industrial.**



A

**Indústria de
congelados.**

B

**Mercado
local**

C

**Indústria de
conservas**

Selecione a afirmação verdadeira que se refere à pesca moderna ou industrial.



A pesca industrial é a principal responsável pela sobreexploração dos oceanos.



A pesca industrial utiliza meios rudimentares e obtém pouca rentabilidade.



A pesca industrial utiliza uma tripulação abundante, mas pouco qualificada.

Indica as palavras que na sequência correta completam a frase seguinte.



A _____ é uma consequência da pesca intensiva, devido à _____ crescente de peixe. Isto deve-se à utilização de tecnologias modernas de deteção de cardumes, com recurso a _____ e técnicas agressivas de pesca, como a de _____.

- A** Poluição- oferta - sonares - cerco
- B** sobreexploração - oferta - sonares - pesca local
- C** sobreexploração - procura - sonares - arrasto

As medidas seguintes visam combater a sobreexploração dos recursos piscícolas.

**Entre elas existe uma incorreta.
Identifica-a.**



- A** Definição de um período de defeso de forma a permitir a reprodução das espécies.
- B** Fixação do tamanho máximo permitido para pescar cada espécie.
- C** Definição de quotas máximas de pesca a que cada país tem direito.
- D** Legislação acerca da malhagem das redes.
- E** Proibição de certas artes de pesca como o arrasto

Identifica o que significa a sigla Z.E.E.



Zona Europeia
Económica



Zona Económica
Exclusiva



Zona Económica
Europeia



Zona Europeia
Exclusiva

Os estados litorais possuem direitos sobre a sua ZEE.

Selecione a opção correta



- A** Preservar, explorando os recurso fluviais.
- B** Explorar intensivamente todos os recursos marítimos.
- C** Explorar, gerir e preservar os recursos marítimos.
- D** Explorar, preservando os recursos marítimos e terrestres.



Indústria



Indica qual das frases seguintes corresponde melhor à definição de indústria.



Atividade do setor terciário que transforma matéria-prima em produtos acabados e semiacabados, com o objetivo de fornecer serviços ao comércio.



Atividade do setor secundário que transforma matérias-primas em produtos acabados, equipamentos e produtos semi-acabados que vão constituir matéria-prima para outras indústrias.



Atividade do setor secundário que transforma matérias-primas naturais em produtos acabados e semi-acabados que vão constituir produtos que irão ser utilizados nos outros setores.



Atividade do setor primário que explora matérias-primas naturais.

Observa as figuras seguintes e indica a tabela que corresponde à classificação das indústrias ilustradas na figura.

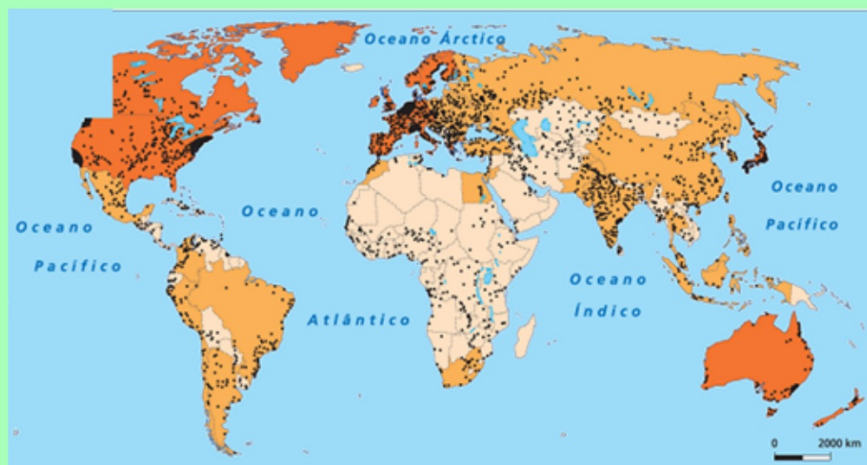


	Figura
Indústria de bens de consumo	A C
Indústria de bens de equipamento	B
Indústria ligeira	A C
Indústria pesada	B
Indústria de ponta	B
Agro-Indústria	C

	Figura
Indústria de bens de consumo	A C
Indústria de bens de equipamento	B
Indústria ligeira	A C
Indústria pesada	A
Indústria de ponta	B
Agro-Indústria	C A

	Figura
Indústria de bens de consumo	B
Indústria de bens de equipamento	B
Indústria ligeira	A C
Indústria pesada	B
Indústria de ponta	B
Agro-Indústria	A C

Observa com atenção a figura seguinte relativa à distribuição da indústria no mundo. Indica se a sua legenda é verdadeira ou falsa.



- Países não industrializados
- NPI
- Países industrializados

A



B



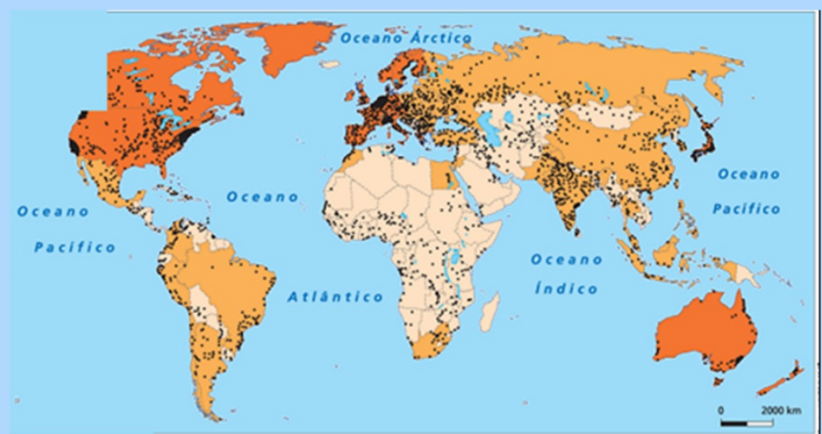
Indica quais as regiões do mundo são mais industrializadas e desenvolvidas.



A América do Norte
Europa
Japão
Oceânia

B América do Norte
Europa
China
Brasil

C China
Brasil
Índia
México



Seleciona as características da indústria nos NPI de entre as opções seguintes.



A mão-de-obra qualificada
elevado nível tecnológico

B mão-de-obra pouco qualificada
bens de consumo de baixo valor

C pouco intensiva em mão-de-obra
bens de equipamento

Identifica o conceito expresso na frase seguinte.

Muitas multinacionais instalam indústrias nos países menos desenvolvidos para aproveitar a mão de obra mais barata e legislação menos exigente.



A

Globalização

B

Deslocação

C

Industrialização

D

Deslocalização

Selecione a opção mais correta para a localização de uma indústria de calçado, uma de computadores, uma serração e uma refinaria de petróleo, na região representada na figura.

A

calçado- 4
computadores- 1
serração- 3
refinaria- 2



B

calçado- 4
computadores- 2
serração- 1
refinaria- 3

C

calçado- 1
computadores- 2
serração- 3
refinaria- 4



D

nenhuma das anteriores

Escolhe o fator de localização industrial mais importante para uma indústria de aparelhos médicos.



- A** Matéria-prima
- B** Energia
- C** Mão-de-obra abundante
- D** Mão-de-obra qualificada

Selecione a opção que não completa corretamente a frase seguinte: A matéria-prima é um fator de localização muito importante quando...



- A** é pesada.
- B** é volumosa.
- C** não se detiora.
- D** gera muitos desperdícios.
- E** se detiora facilmente.

Indica a razão pela qual a indústria de panificação se localiza junto dos consumidores.



A

Para pouparem nos custos de transporte.

B

Porque os produtos têm de ser rapidamente consumidos.

C

Para melhor publicitarem os seus produtos.

Ufa!

Já está...