



Agrupamento de Escolas de Atouguia da Baleia

Ano Letivo 2014-2015

**História
8ª B**

Antigo Regime



1. Entende-se por Antigo Regime o período temporal que compreende os séculos XVI a XVIII.

A



B



2. O modelo político implementado por D. José I foi...

- 1 [...] Monarquia Absoluta
- 2 [...] Monarquia Constitucional
- 3 [...] Monarquia Ditatorial
- 4 [...] Monarquia Imperial
- 5 Nenhuma das opções anteriores



3. Em relação à sociedade do Antigo Regime, assinala a opção correta.



- 1** A sociedade estava dividida em ordens: Clero, Nobreza, Burguesia e Povo.
- 2** A sociedade estava organizada em ordens hierarquizadas.
- 3** A sociedade era hierarquizada e dividida em classes.





4. A teoria económica que vigorou durante o Antigo Regime denominava-se ...



5. Identifica a balança comercial associada ao Mercantilismo.

Positiva

Equilibrada



A

B

C

D



Negativa

Nenhuma das opções anteriores.



6. No âmbito do mercantilismo, identifica a medida intrusa.

- 1 Compra de produtos de luxo
- 2 Contratação de técnicos estrangeiros
- 3 Concessão de isenções fiscais
- 4 Concessão de monopólios
- 5 Publicação de Pragmáticas

7. A agricultura do Antigo Regime era...

1

[...] Pouco trabalhada

2

[...] Pouco industrializada

3

[...] Pouco comercial

4

Nenhuma das opções anteriores



8. Identifica o movimento artístico representado na fonte.



Solar de Mateus



9. Em relação ao barroco, assinala a opção errada.



- 1** Surgiu no período do Renascimento.
- 2** Serviu os papas e os monarcas para impressionar os súbditos.
- 3** É um movimento repleto de sentimentos fortes.
- 4** Predominam as linhas curvas.
- 5** A decoração é exuberante: as fachadas são embelezadas.



10. A originalidade do barroco português é...



11. Relativamente ao Antigo Regime Português, assinala a opção errada.



- 1** D. João V governou sob a forma de uma monarquia parlamentar.
- 2** A economia portuguesa dependia do comércio colonial.
- 3** D. Luís de Meneses introduziu o mercantilismo em Portugal.
- 4** A descoberta do ouro e diamantes no Brasil permitiram a D. João V reforçar o seu poder.
- 5** A burguesia portuguesa nunca foi tão poderosa e influente com a do norte da Europa.



12. As medidas mercantilista fracassaram devido ...



- 1 [...] à decoberta do ouro em África e ao Tratado de Methuen
- 2 [...] à descoberta do ouro na Índia e ao Tratado de Methuen
- 3 [...] à descoberta do ouro no Brasil e ao Tratado de Zamora
- 4 [...] à descoberta do ouro no Brasil e ao Tratado de Methuen



13. Identifica a doutrina descrita na fonte.



"Uma só nação terá o direito de proibir as outras de vender, trocar ou entrar em relação com outros povos?"

Hugo Grócio



14. Relativamente à hegemonia holandesa, assinala a resposta errada.



1

Existência de capitais e uma frota naval desenvolvida.

2

Tolerância da sociedade holandesa e um regime político republicano.

3

Agricultura e indústria primitivas, mas um comércio e frota mercante mais avançada da época.

4

Nenhuma das opções anteriores







15. Para combater a hegemonia comercial e marítima dos holandeses foi publicado por um Parlamento europeu o *Ato de Navegação* de 1651. Identifica a nacionalidade desse Parlamento.



16. Os holandeses e ingleses introduziram novidades na organização comercial e financeira. Relativamente a este tema, identifica a opção correta.

- 
- 1** Criação de companhias comerciais e feitorias.
 - 2** Criação de companhias comerciais e portos de mar.
 - 3** Criação de companhias comerciais, a bolsa e bancos.
 - 4** Criação de companhias comerciais, bancos e entrepostos comerciais.
 - 5** Nenhuma das opções anteriores.
- 

17. O modelo político implementado pelo Marquês do Pombal era...

[...] despotismo absoluto.

[...] despotismo parlamentar.



1

2

3

4



[...] despotismo esclarecido.

[...] despotismo monárquico.



18 . Durante o governo de D. José I forma criados organismos, tais como...

A Erário Régio e Real Academia de Policia

B Erário Régio e Polícia Política.

C Intendência Geral de Polícia e censura.

D Nenhuma das opções anteriores.

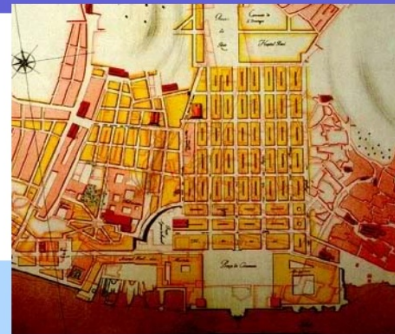




19. Durante o reinado de D. José, ocorreu em Lisboa um terramoto; ocorreu no ano de ...



20. Relativamente ao urbanismo pombalino, assinala a opção errada.



- 1 Traçado geométrico, ruas largas com passeios e construção antissísmica.
- 2 Traçado geométrico, ruas amplas e construção antissísmica.
- 3 Traçado geométrico, edifícios iguais com construção antissísmica.
- 4 Edifícios iguais, ruas amplas e traçado orgânico.



21. Relativamente à reforma na educação levada a cabo pelo Marquês de Pombal, identifica a opção errada.

A Reforma inspirada nos estrangeiros expulsão dos jesuítas.

B Criação de escolas régias e reforma da universidade de Coimbra, dotando-a de novos estatutos.

C Criação de escolas industriais e expulsão dos franciscanos.

D Criação de escolas menores e da Aula do Comércio.

E Promoção do ensino experimental com a criação do teatro anatómico, observatório astronómico...



